

# Control de Materia N° 1

## Espacio Geográfico Nacional

### TERRITORIO NACIONAL

1. El aislamiento geográfico de Chile es una dificultad concreta que repercute en:
  - a) La carencia de comercio con otros continentes.
  - b) La imposibilidad de participar en acuerdos de integración económica subregional.
  - c) El encarecimiento de los costos de fletes que afectan a nuestro comercio exterior.
  - d) La inexistencia de relaciones diplomáticas con los países del extremo oriente.
  - e) La ausencia de comunicaciones regulares con la Isla de Pascua y Australia.
  
2. ¿Sobre cuáles de los territorios mencionados a continuación nuestro país ejerce plena soberanía?
  - I.- El espacio aéreo, proyección de líneas imaginarias sobre el mar territorial y el continente.
  - II.- La Zona Económica Exclusiva, el suelo y subsuelo marino.
  - III.- El Chile continental e insular (continental y oceánico).
  - a) Sólo I
  - b) Sólo II
  - c) I y III
  - d) II y III
  - e) I, II y III
  
3. ¿Cuál(es) de las siguientes islas se encuentra(n) efectivamente ubicada(s) en Oceanía?
  - I.- Isla de Pascua
  - II.- Sala y Gómez
  - III.- San Felix y San Ambrosio
  - a) Sólo II
  - b) Sólo III
  - c) I y II
  - d) I y III
  - e) II y III

4. El que Chile americano, se extienda entre los 17° 30' y los 56° 30' de latitud sur provoca como consecuencias:

- I.- La diversidad de recursos naturales.
- II.- La uniformidad horaria de Chile continental.
- III.- El sentido longitudinal de su sistema vial.
- IV.- Ser un factor de la diversidad climática.

- a) I y II
- b) I y III
- c) II y III
- d) I, III y IV
- e) I, II, III y IV

### Geografía Física de Chile

5. La formación del relieve nacional es el resultado de una serie de procesos geológicos que abarcaron millones de años. ¿Qué fenómenos naturales participaron en la conformación actual de nuestro territorio?

- I. Movimientos de placas tectónicas.
- II. Actividad volcánica.
- III. La erosión glacial.

- a) Sólo II
- b) Sólo III
- c) I y II
- d) II y III
- e) I, II y III

6. En la generación del relieve de la superficie terrestre actúan tanto las fuerzas internas como las fuerzas externas. Con respecto a ellas se puede afirmar que:

- I.- Las internas generan las grandes cadenas montañosas.
- II.- Las externas son las causantes de las formas de erosión y sedimentación.
- III.- Las internas sólo son causantes de las formas del relieve derivadas de los fenómenos volcánicos.

- a) Sólo I
- b) I y II
- c) I y III
- d) II y III
- e) I, II y III

7. Entre los rasgos físicos que han quedado como testigos de la acción glacial en Chile, se puede(n) mencionar:

- I.- Los canales y fiordos de las Regiones XI de Aisén y XII de Magallanes.
- II.- Los lagos de las Regiones IX de la Araucanía y X de Los Lagos.
- III.- Las planicies litorales de las Regiones VII del Maule y VIII del Biobio.

- a) Sólo I
- b) Sólo II
- c) I y II
- d) II y III
- e) I, II y III

8. La importancia de la Cordillera de los Andes para Chile, en el aspecto físico y económico, es:

- I.- Actúa como biombo climático.
- II.- Posee potencial hidroeléctrico y reservas mineras.
- III.- Presenta grandes recursos forestales en el norte del país.

- a) Sólo I
- b) Sólo II
- c) I y II
- d) II y III
- e) I, II y III

9. El 80% de la superficie chilena, en el continente americano, corresponde al relieve montañoso. Esto trae como principal consecuencia:

- I.- La concentración mayoritaria de la población en la Depresión Intermedia.
- II.- La intensa actividad forestal que se realiza en la Cordillera de los Andes.
- III.- La existencia de reservas de nieves y aguas para las Estaciones secas.
- IV.- La localización de las principales actividades mineras en el litoral marítimo.

- a) I y II
- b) II y III
- c) III y IV
- d) I y III
- e) II y IV

**10.**Una de las manifestaciones morfológicas que caracteriza al relieve entre los ríos Copiapó y Aconcagua se conoce como:

- a) Pampas Altiplánicas
- b) Cordones Transversales
- c) Pampa del Tamarugal
- d) Valle Longitudinal
- e) Cuencas Intermontañas

**11.**El litoral del Norte Grande presenta como principal(es) característica(s):

- I.- extensos acantilados
- II.- gran extensión latitudinal
- III.- amplias planicies litorales

- a) Sólo I
- b) Sólo II
- c) I y II
- d) I y III
- e) II y III

**12.**La diversidad climática de nuestro país nos permite obtener ciertas ventajas que se expresan en distintos ámbitos, tanto en la vida cotidiana de las personas como en el económico. Entre estas ventajas podemos mencionar:

- I.- Variedad de paisajes con atractivo turístico.
- II.- Producción de fruta que se comercializa en el hemisferio norte.
- III.- Riesgos naturales previsible.

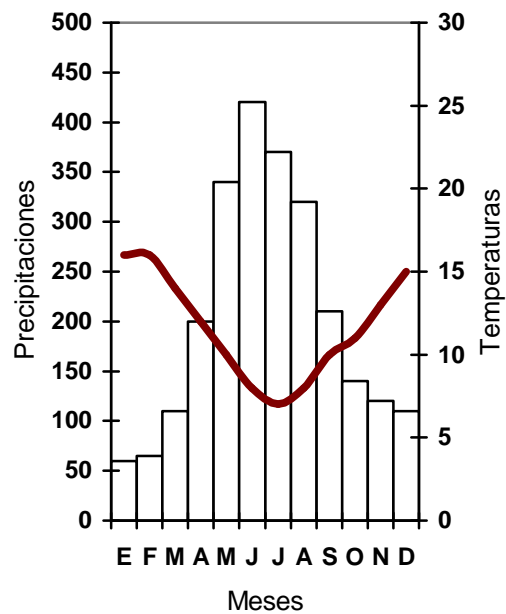
- a) Sólo II
- b) Sólo III
- c) I y II
- d) I y III
- e) I, II y III

**13.**Los elementos del clima presentan variaciones en tiempo y en el espacio, tanto en lo que respecta a magnitud como a distribución de ellos. Estas variaciones se explican por efecto de los factores del clima, entre los cuales se puede(n) mencionar:

- I.- La distancia al mar
- II.- La latitud
- III.- El relieve

- a) Sólo I
- b) I y II
- c) I y III
- d) II y III
- e) I, II y III

### Valdivia



14. En relación al climograma, es correcto afirmar:

- I.- Corresponde al clima templado lluvioso.
- II.- Las precipitaciones se registran durante todo el año (alrededor de 2.000 mm. anuales).
- III.- Las temperaturas promedio anuales oscilan entre los 11 y 12 grados aproximadamente.

- a) Solo I
- b) I y II
- c) II y III
- d) I y III
- e) I, II y III

15. Entre las funciones que cumplen los bosques en el territorio nacional, se puede(n) mencionar:

- I.- la producción de madera.
- II.- la protección de las cuencas y laderas.
- III.- la preservación de la fauna silvestre.

- a) Solo I
- b) Solo II
- c) Solo III
- d) I y III
- e) I, II y III

**16.** Debido al relieve accidentado del país, la(s) forma(s) de relieve que concentra(n) a la población chilena es(son):

- I.- las Planicies Litorales.
- II.- la Depresión Intermedia.
- III.- la Cordillera de los Andes.

- a) Solo I
- b) Solo II
- c) I y II
- d) I y III
- e) I, II y III

**17.** Las corrientes marinas como la de Humboldt, la del Golfo y la del Labrador, entre otras, son uno de los factores del clima porque:

- a) influyen en la velocidad de los vientos.
- b) originan frentes de mal tiempo.
- c) modifican las temperaturas en las áreas costeras.
- d) determinan la distribución de la presión.
- e) explican la existencia de las lluvias convectivas.

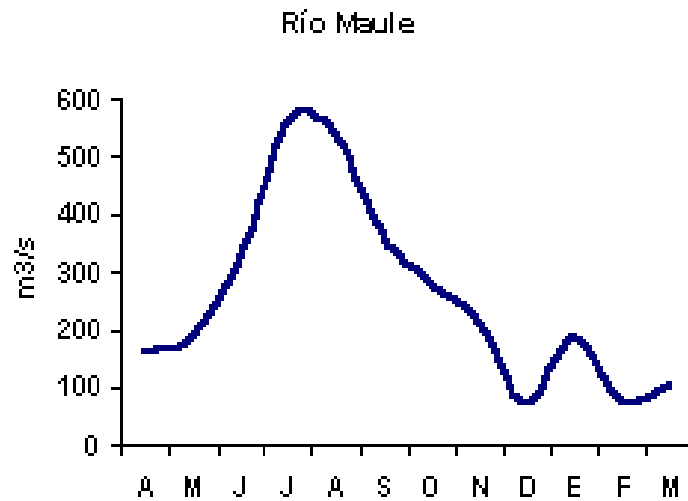
**18.** En Chile, al igual que en otros países, existen factores físicos que influyen en el desarrollo de la vegetación, entre los que destaca(n):

- I.- La altitud
- II.- El relieve
- III.- Los suelos

- a) Sólo I
- b) Sólo II
- c) Sólo III
- d) II y III
- e) I, II y III

**19.** En Chile podemos encontrar tres regiones hidrográficas. La zona arreica se localiza entre:

- a) Arica y el río Loa
- b) El río Copiapó y el Biobío
- c) El río Loa y el río Copiapó
- d) El río Biobío al sur del país
- e) El río Aconcagua y el río Biobío



20. En relación al fluviograma del Río Maule ¿Cuál(es) de la(s) siguiente(s) afirmación(es) es(son) correcta(s)?

- I.- Su principal crecida coincide con el derretimiento de las nieves.
- II.- Su régimen puede definirse como mixto pluvio-nival.
- III.- Su régimen puede definirse como pluvial.

- a) Sólo I
- b) Sólo II
- c) Sólo III
- d) I y II
- e) I y III

### Geografía Humana de Chile

21. Entre los rasgos característicos de la población chilena actual, destaca:

- a) Su moderada tasa de crecimiento.
- b) Su gran heterogeneidad étnica.
- c) El equilibrio entre la población urbana y rural.
- d) La alta tasa de analfabetismo.
- e) Su distribución armónica en el país.

**22.**La densidad es un indicador que señala el grado de concentración de la población, en un espacio determinado. ¿Qué deducciones puedo obtener, al saber que la Región Metropolitana presenta una densidad de 355,4 hab/Km<sup>2</sup> y la Región de Aisén de 0,8 hab/Km<sup>2</sup>?

- I.- Que la Región Metropolitana es una zona que atrae población.
- II.- Que la Región de Aisén es una zona con algún tipo de dificultad para el asentamiento de la población.
- III.- Que ambas regiones equiparan sus superficies.

- a. Sólo I
- b. I y II
- c. I y III
- d. II y III
- e. I, II y III

**23.**La disminución de la tasa de crecimiento poblacional del país en las últimas décadas, ha generado como consecuencia:

- a) Un aumento de la población en edad de trabajar.
- b) Una disminución de las tasas de mortalidad infantil.
- c) Un envejecimiento de la estructura de población.
- d) Una disminución de la población en edad de trabajar.
- e) Un rejuvenecimiento de la estructura de la población.

**24.**Las bajas tasas de fecundidad se han traducido en un descenso de las tasas de crecimiento de la población en Chile. Esta situación es producto de:

- I.- La difusión de prácticas anticonceptivas.
- II.- La incorporación creciente de la mujer al trabajo remunerado.
- III.- La modificación de los valores con relación al tamaño de la familia.

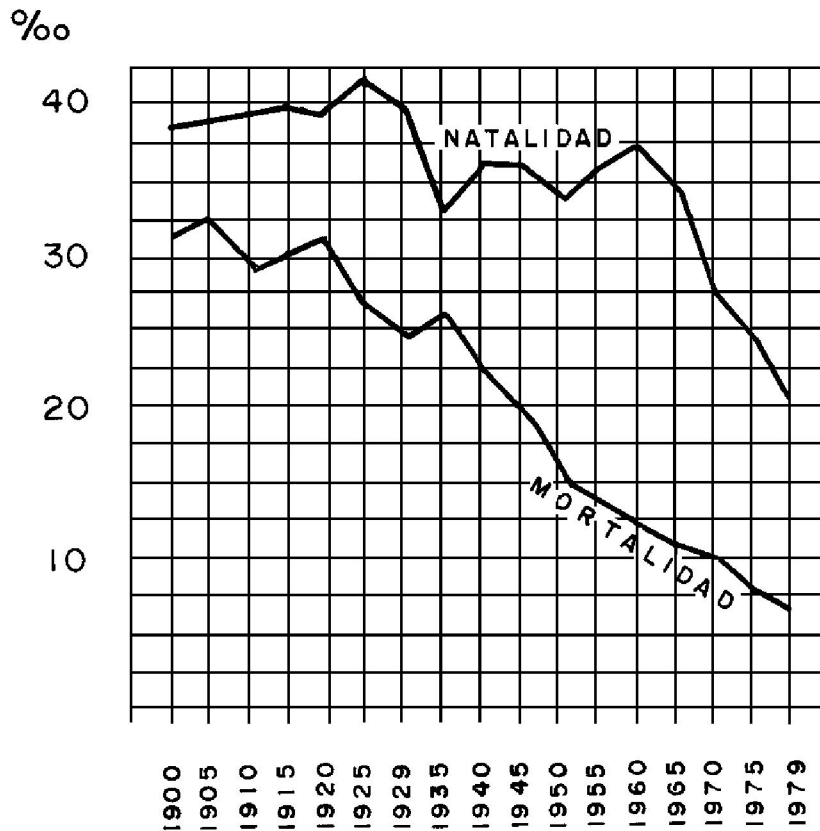
- a) Sólo I
- b) Sólo II
- c) Sólo III
- d) I y III
- e) I, II y III

**25.**En Chile existen regiones cuya tasa de población urbana supera la tasa nacional que es, aproximadamente, de 83,5%. Además, sus principales ciudades se emplazan en el litoral y cuentan con escaso poblamiento interior. Las características señaladas corresponden a las regiones:

- a) de Tarapacá y de Antofagasta.
- b) de Atacama y de Coquimbo.
- c) de Valparaíso y del Lib. Gral. B. O'Higgins.
- d) del Maule y del Biobío.
- e) de la Araucanía y de Los Lagos.



CHILE: EVOLUCIÓN TASAS DE NATALIDAD Y MORTALIDAD  
1900 – 1979



(INE 1900-1979)

26. De la figura adjunta que muestra la evolución de las tasas de natalidad y mortalidad de la población chilena, entre los años 1900 y 1979, se puede concluir que la tasa de crecimiento vegetativo más alta se alcanzó en el año

- a) 1960
- b) 1935
- c) 1925
- d) 1920
- e) 1905

27. A partir de la década de 1980 el flujo migratorio de población nacional hacia la Región Metropolitana de Santiago ha acentuado el(los) siguiente(s) problema(s):

- I.- Congestión vehicular
- II.- Extensión urbana u ocupación de terrenos aptos para la agricultura
- III.- Contaminación acústica

- a) Sólo I
- b) Sólo II
- c) Sólo III
- d) I y III
- e) I, II y III

**28.**La dinámica demográfica experimentada por nuestro país, se ha expresado no solo en las variaciones del ritmo de crecimiento de la población, sino que lo ha hecho también sobre su composición. En relación con lo anterior, entre los impactos de la estructura de edades de la población destaca(n):

- I.- El incremento de la esperanza de vida de los hombres respecto de las mujeres.
- II.- La disminución del porcentaje de población en el grupo muy joven.
- III.- El aumento de la proporción de población en la categoría joven – adulta.

- a) Solo I
- b) Solo II
- c) I y II
- d) I y III
- e) II y III

**29.**Según el Censo de 2002 la población chilena reside principalmente en el ámbito urbano, alcanzando un porcentaje superior al 86%. ¿Qué factores han contribuido al establecimiento de este alto índice de población urbana?:

- I.- Las migraciones campo-ciudad.
- II.- La gran oferta de servicios que presentan las ciudades.
- III.- La gran contaminación ambiental de las zonas rurales.

- a) Sólo II
- b) I y II
- c) I y III
- d) II y III
- e) I, II y III

**30.**En Chile la tendencia migratoria rural-urbana puede ser explicada en parte por:

- I.- Las menores posibilidades de mejorar la calidad de vida en el campo.
- II.- La búsqueda de mejores expectativas de vida en la ciudad.
- III.- El desarrollo de los medios de comunicación.

- a) Sólo I
- b) Sólo II
- c) Sólo III
- d) I y III
- e) I, II y III

## CLAVES

### Control de Materia N° 1

1.	C	16.	C
2.	C	17.	C
3.	C	18.	E
4.	E	19.	C
5.	E	20.	B
6.	B	21.	A
7.	C	22.	B
8.	C	23.	C
9.	D	24.	E
10.	B	25.	A
11.	A	26.	A
12.	C	27.	E
13.	E	28.	E
14.	E	29.	B
15.	E	30.	E