

I. Espacio Geográfico

Control de Materia N° 4 Inserción de Chile en el Mundo

1. El modelo económico chileno se sustenta en un fenómeno de carácter mundial, el de la globalización de la economía. Este concepto implica
 - A) la contradicción entre los intereses del Estado y la economía.
 - B) un intenso intercambio de bienes y servicios a nivel mundial.
 - C) el avance del proteccionismo económico.
 - D) el fomento de economías rígidas y centralmente planificadas.
 - E) una disminución del rol privado en favor del Estado.

2. Chile es un país cuya economía depende en gran medida de su inserción en la economía mundial. En este ámbito, su intercambio comercial presenta, entre otras, la siguiente característica
 - A) Bajos volúmenes de importaciones de bienes de capital.
 - B) Diversidad de mercados para sus exportaciones.
 - C) Preponderancia de importaciones de materias primas.
 - D) Escasos porcentajes de importaciones de combustibles.
 - E) Predominio de exportaciones de productos industriales.

3. Una de las desventajas de la situación geográfica de Chile ha sido su lejanía de la mayoría de los países del mundo y de sus principales mercados. Desde el punto de vista comercial, esta desventaja ha disminuido su importancia en la Época Contemporánea, como consecuencia de
 - I. el desarrollo económico que ha alcanzado la cuenca del Pacífico.
 - II. los tratados suscritos por Chile con EE.UU. y la Unión Europea.
 - III. el progreso alcanzado en los medios de transporte y comunicación.
 - A) Sólo I
 - B) Sólo II
 - C) Sólo I y II
 - D) Sólo I y III
 - E) I, II y III

4. Chile importa principalmente bienes intermedios. De ellos, los que se importan en mayor cantidad son
 - A) gas natural y petróleo.
 - B) madera y hierro.
 - C) conservas de pescado.
 - D) máquinas y autos.
 - E) ropa y computadores.

5. Los tratados internacionales en general, y de libre comercio en particular, que Chile ha suscrito con países desarrollados, contribuyen a una mayor inserción del país en el mundo globalizado. Uno de los principales argumentos declarados por otros países para firmar tratados con Chile, es que el país muestra
- A) una estabilidad política, jurídica y administrativa.
 - B) un importante desarrollo de la industria de tecnología.
 - C) un sistema portuario para gran tonelaje a lo largo de todo el territorio.
 - D) una alta calidad de infraestructura en el transporte terrestre.
 - E) una permanente estabilidad del precio del dólar.
6. Durante las últimas décadas, Chile ha profundizado su política de inserción internacional suscribiendo numerosos acuerdos comerciales, tanto bilaterales como multilaterales. El propósito fundamental de dichos acuerdos es lograr
- A) el fomento de las importaciones.
 - B) el incremento de las exportaciones.
 - C) el aumento del valor de la moneda nacional.
 - D) la disminución de los costos de producción.
 - E) la transferencia tecnológica.
7. Para Chile, participar en la economía global, entre otras cosas, ha implicado
- I. buscar acuerdos comerciales tanto bilaterales como multilaterales.
 - II. diversificar sus exportaciones y potenciar sus ventajas comparativas.
 - III. aumentar las barreras arancelarias y reducir las cuotas de importación de bienes de capital.
- A) Sólo I
 - B) Sólo III
 - C) Sólo I y II
 - D) Sólo I y III
 - E) Sólo II y III
8. Entre las ventajas comparativas que ofrece el territorio nacional para la producción minera se encuentra(n)
- I. disponer de importantes yacimientos de cobre, litio y hierro.
 - II. desarrollar tecnología propia para la extracción de recursos mineros.
 - III. contar con suelos geológicamente aptos para la extracción minera.
- A) Sólo I
 - B) Sólo II
 - C) Sólo III
 - D) Sólo I y III
 - E) I, II y III

9. El país presenta actualmente una economía orientada al comercio exterior. Para obtener el máximo beneficio en esta política de inserción internacional, a través de las exportaciones, Chile ha promovido la(s) siguiente(s) medida(s):

- I. Desarrollar la industria pesada.
- II. Establecer bajos aranceles.
- III. Suscribir acuerdos bilaterales y multilaterales.

- A) Sólo II
- B) Sólo III
- C) Sólo I y II
- D) Sólo I y III
- E) Sólo II y III

10. Respecto del comercio exterior de Chile se puede establecer que las exportaciones se basan fundamentalmente en la venta de materias primas. Por otra parte, a través de las importaciones llegan al país

- I. bienes de consumo corriente.
- II. bienes de capital como equipos y maquinarias.
- III. bienes intermedios como los combustibles.

- A) Sólo I
- B) Sólo II
- C) Sólo III
- D) Sólo II y III
- E) I, II y III

11. En la década del '60, más del 90% de las exportaciones correspondían a actividades extractivas, particularmente de productos mineros, representando el cobre y sus derivados más del 70% del valor total de las exportaciones. En la actualidad, el sector exportador ha operado sobre la base de las exportaciones no tradicionales, a las cuales se asocian las provenientes del sector agropecuario, del mar y algunas del sector industrial.

En relación con el párrafo y considerando sus conocimientos sobre el tema, es correcto señalar que

- A) las exportaciones mineras han dejado de ser relevantes para la economía nacional.
- B) las exportaciones no tradicionales sólo involucran a las frutícolas y pesqueras.
- C) las exportaciones no tradicionales han permitido una mayor diversificación de la economía.
- D) el cobre y sus derivados ya no son significativos para el crecimiento global de economía.
- E) las exportaciones no tradicionales superan en aporte de divisas a la minería.

12. En el contexto de la economía mundial, es importante que Chile logre fortalecer su economía otorgándole a sus productos un "mayor valor agregado". Esto implica que
- A) las materias primas tengan procesos de elaboración.
 - B) se eliminen los costos de producción asociados a la exportación.
 - C) las empresas ocupen mayor cantidad de mano de obra.
 - D) el país aumente el cobro de aranceles de importación.
 - E) las materias primas sean importadas.
13. Entre los acuerdos comerciales suscritos entre Chile y otras asociaciones económicas regionales en la última década, se cuentan los Tratados de Libre Comercio (TLC). Una de las consecuencias fundamentales de la firma de estos tratados para Chile, es
- A) la baja en los aranceles aduaneros.
 - B) el intercambio de mano de obra.
 - C) la reducción de la demanda.
 - D) la baja automática en los precios de los combustibles.
 - E) el aumento del índice de precios al consumidor.
14. El Cobre es uno de nuestros principales productos de exportación, al respecto podemos señalar que
- I. nuestros principales mercados compradores se encuentran en el continente asiático.
 - II. la empresa cuprífera propietaria de mayor importancia en Chile es ENAMI (Empresa Nacional de Minería).
 - III. el cobre se utiliza en la fabricación de cables eléctricos, tuberías y cañerías, lo que fomenta su demanda.
- A) Sólo I
 - B) Sólo II
 - C) Sólo I y II
 - D) Sólo I y III
 - E) I, II y III
15. La estrategia de desarrollo de la economía chilena en las últimas tres décadas ha consistido en la apertura de los mercados y en el impulso de las exportaciones no tradicionales. El relativo éxito de este modelo se ha basado en
- A) el favorable régimen de costos de transporte de la marina mercante nacional.
 - B) ventajas comparativas en las actividades agrícolas y silvícola.
 - C) el uso de expeditas vías como el Estrecho de Magallanes y Canal Beagle.
 - D) la inigualable riqueza minera de gran parte del territorio nacional.
 - E) la cercanía de los grandes centros económicos y políticos del mundo.

16. "Las exportaciones chilenas a la Unión Europea llegaron a US \$9.069 millones en 2005; las importaciones chilenas desde Europa, en tanto, aumentaron 57% entre 2002 y 2005, pues pasaron de US \$3.023 millones a US \$4.734 millones". (Fuente: EMOL) De acuerdo con el texto y considerando sus conocimientos, es correcto señalar que

- I. desde la firma del tratado con la UE, las exportaciones chilenas a ese mercado han aumentado.
- II. la Unión Europea recibe desde Chile principalmente bienes de capital.
- III. entre los productos que Chile exporta a la Unión Europea destacan el cobre, los vinos y el salmón.

- A) Sólo I
- B) Sólo II
- C) Sólo III
- D) Sólo I y III
- E) Sólo II y III

Países desde donde se realizaron importaciones 2007

País	Monto Dolares CIF
ESTADOS UNIDOS DE NORTEAMERICA (USA)	7.268.907.890
CHINA	4.878.146.613
BRASIL	4.497.672.528
ARGENTINA	4.329.423.126
COREA DEL SUR	3.087.713.692
PERU	1.685.837.591
JAPON	1.586.017.078
ALEMANIA	1.560.119.271
MEXICO	1.347.279.600
CANADA	973.619.719
ANGOLA	939.819.450
COLOMBIA	882.005.025
ESPANA	844.783.619
TURQUIA	843.807.654
FRANCIA	791.765.173

Fuente: www.prochile.cl

17. Luego del análisis del cuadro, más sus conocimientos, es correcto señalar que

- I. Chile ha firmado tratados de libre comercio con Estados Unidos y con China.
- II. distintas regiones del mundo abastecen de importaciones al país.
- III. las importaciones desde Sudamérica superan a las de Estados Unidos.

- A) Sólo I
- B) Sólo I y II
- C) Sólo I y III
- D) Sólo II y III
- E) I, II y III

18. Las relaciones económicas internacionales han adquirido un carácter cada vez más globalizado. En este contexto, Chile ha firmado Tratados de Libre Comercio (TLC) con diversos países. Estos tratados se caracterizan por

- I. incluir bienes y servicios en la aplicación de los acuerdos.
- II. rebajar progresivamente los impuestos aduaneros.
- III. establecer mecanismos para resolver conflictos comerciales.

- A) Sólo I
- B) Sólo III
- C) Sólo I y II
- D) Sólo I y III
- E) I, II y III

19. Durante la década de 1990 Chile inició un proceso de reinserción internacional en el ámbito político y económico que se caracterizó por

- I. la firma de acuerdos bilaterales y multilaterales con varios países del mundo.
- II. La política proteccionista aplicada al comercio exterior.
- III. El establecimiento de relaciones diplomáticas sólo con países capitalistas.

- A) Sólo I
- B) Sólo II
- C) Sólo I y II
- D) Sólo II y III
- E) I, II y III

20. El concepto de ventajas comparativas es considerado vital en el contexto del modelo económico neoliberal. Según este precepto cada territorio debe aprovechar, entre otros aspectos, sus condiciones económicas naturales. En este sentido, las fortalezas de la Zona Central son

- I. poseer un clima que permite el cultivo de una considerable variedad de frutas.
- II. disponer de suficientes recursos hídricos ya sea por precipitaciones o cursos de agua.
- III. disponer de amplias zonas planas para el desarrollo de actividades agropecuarias.

- A) Sólo I
- B) Sólo II
- C) Sólo I y III
- D) Sólo II y III
- E) I, II y III

Comercio de Chile con MERCOSUR (en millones de dólares)

	1996	1997	1998	1999	2000	2001	2002	2003	2004
Exportaciones (FOB)	1.760	1.861	1.632	1.520	1.709	1.517	984	1.227	1.972
Importaciones (CIF)	2.814	3.194	3.130	3.092	4.338	4.705	4.827	5.931	7.105
Intercambio Comercial	4.574	5.055	4.762	4.613	6.047	6.223	5.811	7.158	9.077
Balanza Comercial	-1.055	-1.333	-1.499	-1.499	-2.629	-3.188	-3.842	-4.704	-5.134

(Fuente: Banco Central de Chile).

21. En relación con los datos aportados por el cuadro, es correcto señalar que

- A) desde 1997 las exportaciones al MERCOSUR han crecido sostenidamente.
- B) desde 1996 las importaciones desde el MERCOSUR han disminuido sostenidamente.
- C) el año 2001 el intercambio comercial con MERCOSUR registró su mayor valor.
- D) entre 1996 y el 2004 la Balanza Comercial con MERCOSUR fue negativa.
- E) en el año 1999 las exportaciones al MERCOSUR alcanzaron su menor valor.

22. Tras el proceso de redemocratización que se inició en Chile a partir de 1990, la política exterior del país presentó elementos de continuidad y cambio con respecto al período anterior y además, estuvo marcada por una serie de factores. En relación a la política exterior desde 1990 podemos indicar que

- I. se fortalecieron los vínculos políticos y comerciales con los países de América Latina.
- II. se continuó con la apertura comercial iniciada durante el Gobierno Militar.
- III. se excluyeron de la apertura diplomática a los países socialistas europeos.

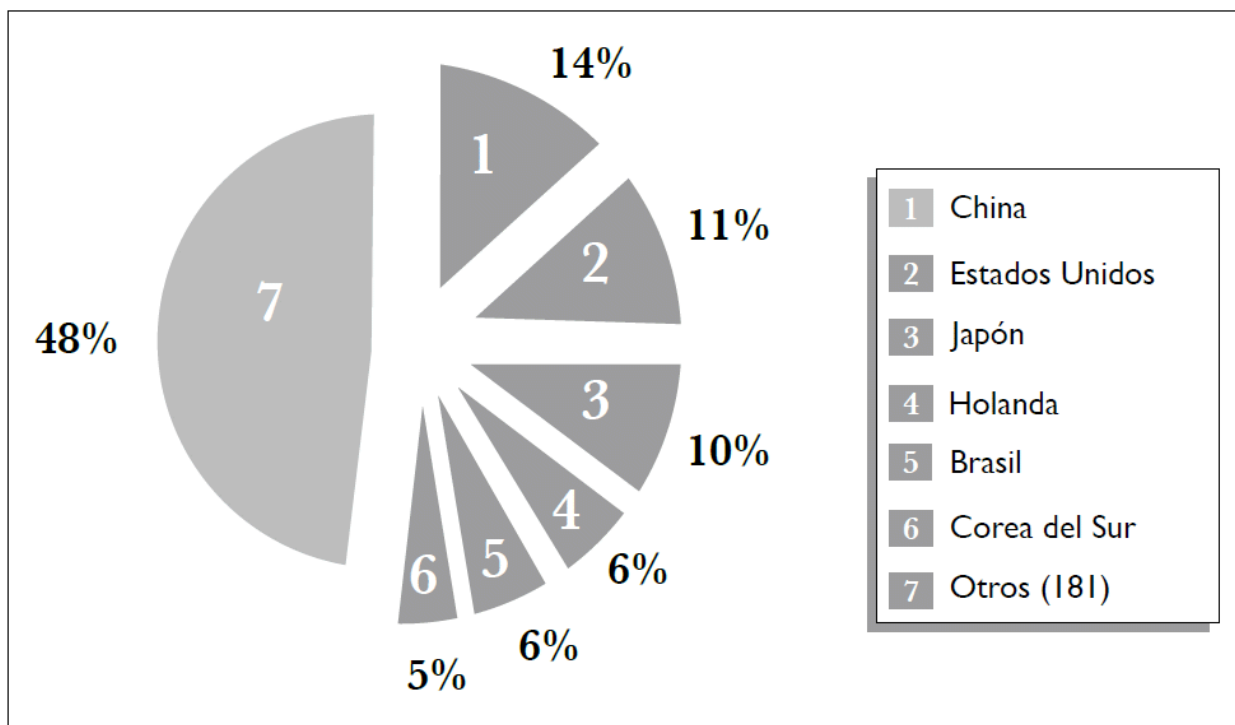
- A) Sólo I
- B) Sólo I y II
- C) Sólo I y III
- D) Sólo II y III
- E) I, II y III

23. Uno de los temas abordados por los tratados internacionales sobre medio ambiente, dice relación con el problema del calentamiento global del planeta. En el territorio de Chile, entre los factores que contribuyen a agudizar este problema se puede(n) mencionar

- I. la ocurrencia de incendios forestales.
- II. el crecimiento de los centros urbanos.
- III. el incremento de la contaminación del aire.

- A) Sólo I
- B) Sólo II
- C) Sólo I y III
- D) Sólo II y III
- E) I, II y III

Países donde se realizaron exportaciones el 2008



Fuente: www.prochile.cl

24. Luego del análisis del gráfico, más sus conocimientos, es correcto señalar que

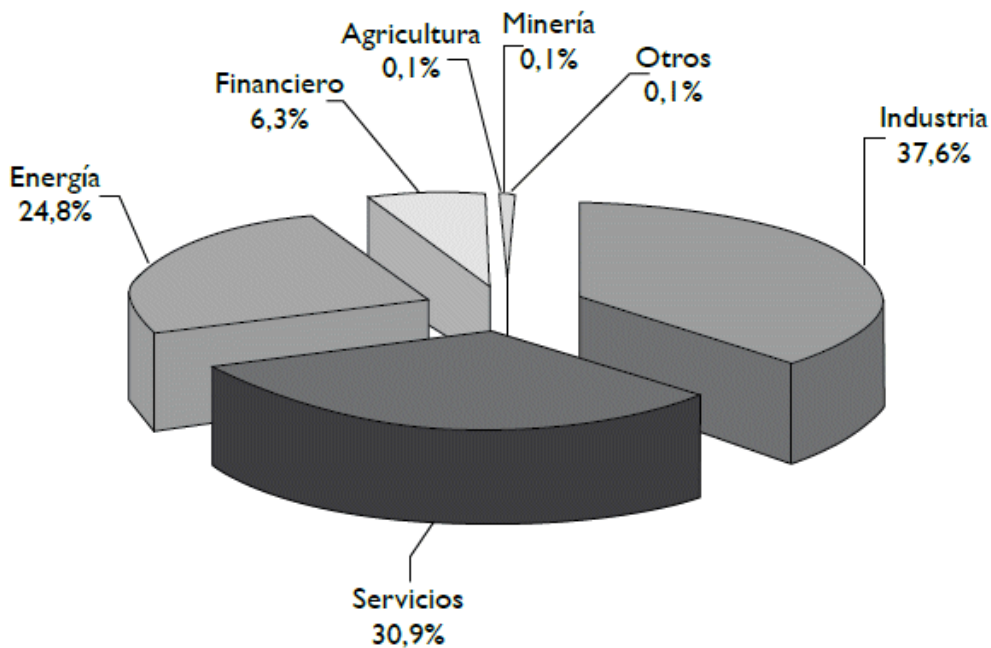
- I. para Chile, los principales mercados exportadores son Norteamérica y Asia.
- II. las materias primas predominan las exportaciones nacionales.
- III. las exportaciones a Latinoamérica son determinantes para la economía nacional.

- A) Sólo I
- B) Sólo I y II
- C) Sólo I y III
- D) Sólo II y III
- E) I, II y III

25. En relación con el calentamiento global, en 1994 Chile suscribió la Convención de la ONU sobre Cambio Climático. Respecto de dicha Convención, se puede señalar que, en Chile, la conservación del bosque nativo y las plantaciones forestales tienen como objetivo fundamental

- A) aumentar la superficie bajo sombra de árboles.
- B) incrementar el consumo de oxígeno.
- C) producir madera sólo para exportación.
- D) reducir la radiación ultravioleta.
- E) aumentar la absorción del dióxido de carbono.

INVERSIONES DE CHILE EN ARGENTINA 1990-2006 ESTRUCTURA SECTORIAL %



Fuente: DIRECON. Depto. de Inversiones en el Exterior

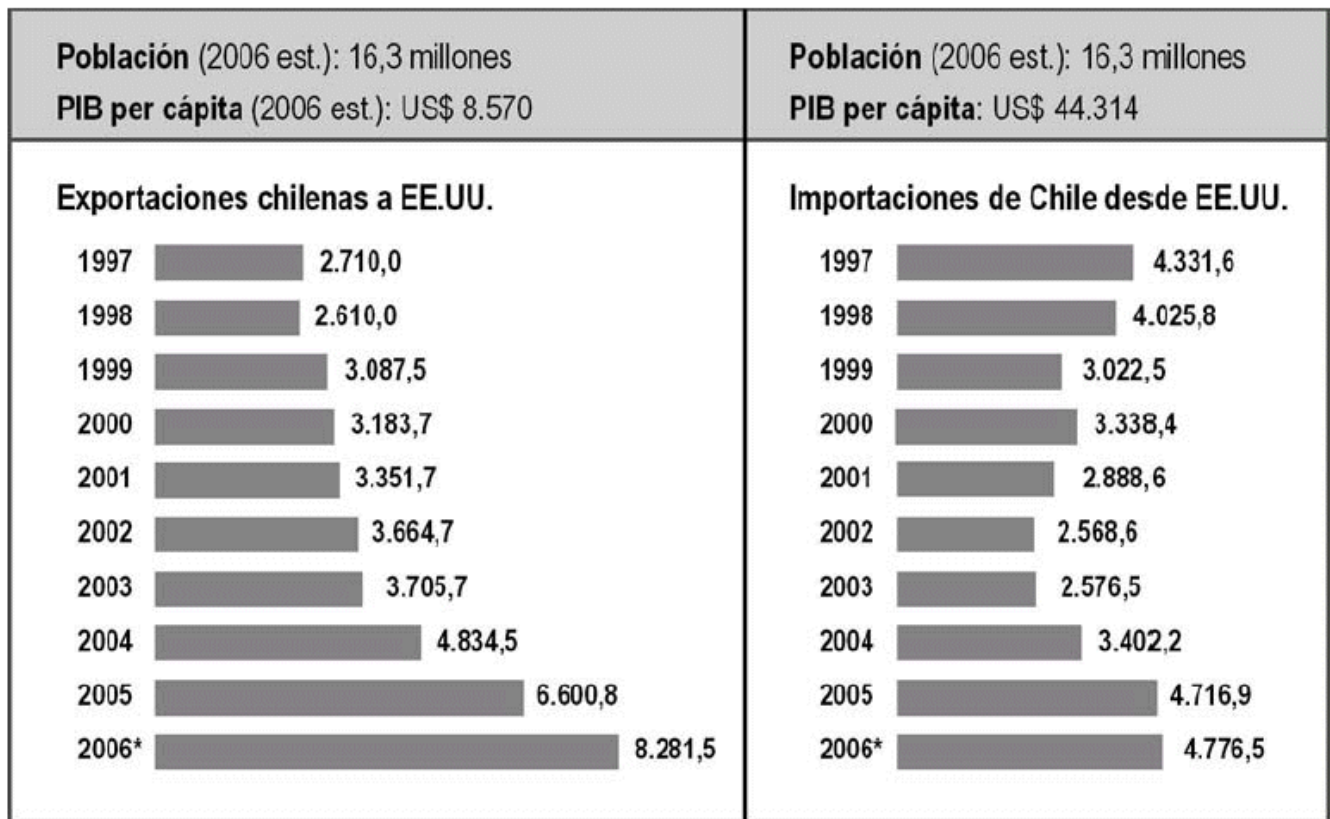
26. Luego del análisis del gráfico, más sus conocimientos, es correcto señalar que

- I. el sector primario argentino recibe una inversión chilena significativa.
- II. las inversiones chilenas se concentran en la industria y los servicios.
- III. la balanza comercial entre los dos países es favorable para Argentina.

- A) Sólo I
- B) Solo II
- C) Sólo I y II
- D) Sólo II y III
- E) I, II y III

27. Si se tiene en cuenta que el país no es autosuficiente en numerosos recursos y bienes, Chile está obligado a realizar importaciones, lo cual determina que se deba

- A) Imponer una política de rebaja del dólar para obtener precios más baratos.
- B) Buscar mercados compradores en todos los diferentes ámbitos geográficos del mundo.
- C) Otorgarle primacía a la importación de materias primas.
- D) Negociar los mejores precios para el intercambio comercial con los países vecinos.
- E) Ampliar los contactos con los países emergentes industrializados de Asia y del Pacífico.



(Fuentes: ProChile. Banco Central)

28. La información referida a exportaciones e importaciones entre EE.UU y Chile permite afirmar que:

- I. Mientras las exportaciones chilenas han crecido notablemente, el comportamiento de las importaciones ha mostrado notorios altibajos.
- II. El año de menor exportación coincide con el año de menor importación.
- III. En aproximadamente 10 años, las exportaciones chilenas se han más que duplicado

- A) Solo I
- B) Solo II
- C) Solo III
- D) Solo I y III
- E) I, II y III

29. En los últimos años Chile ha celebrado importantes tratados comerciales con países integrantes de

- I. La APEC
- II. El NAFTA
- III. La Unión Europea

- A) Solo I
- B) Solo II
- C) Solo III
- D) Solo I y II
- E) I, II y III

30. Una de las organizaciones más activas en el actual proceso de globalización es la Organización Mundial del Comercio (OMC), organismo que se propone, entre sus principales objetivos:

- I. Un rol mayor del Estado en los controles aduaneros
- II. La liberalización del comercio
- III. El aumento de los aranceles aduaneros

- A) Solo I
- B) Solo II
- C) Solo III
- D) Solo I y III
- E) Solo II y III

CLAVES
Control de Materia N° 4

1.	B	16.	D
2.	B	17.	E
3.	E	18.	E
4.	A	19.	A
5.	A	20.	E
6.	B	21.	D
7.	C	22.	B
8.	D	23.	E
9.	E	24.	B
10.	E	25.	E
11.	C	26.	D
12.	A	27.	E
13.	A	28.	D
14.	D	29.	E
15.	B	30.	B